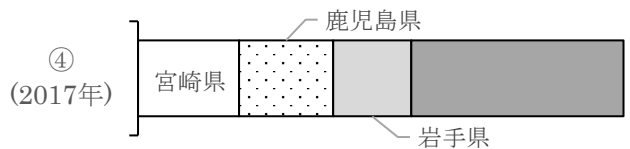
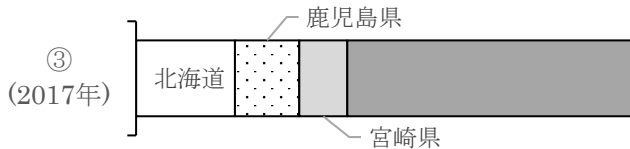
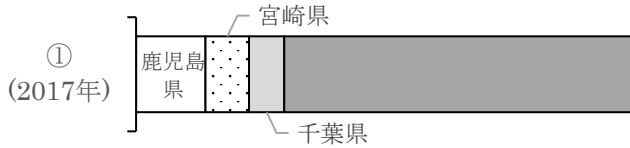


名前 ( )

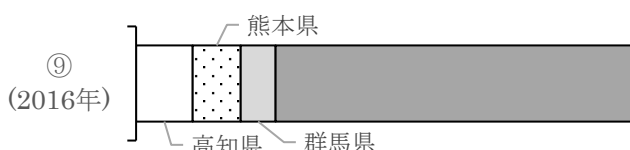
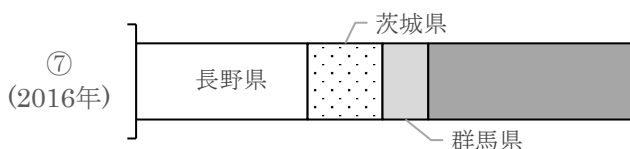
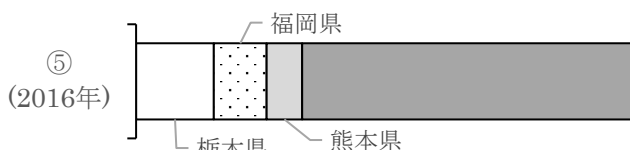
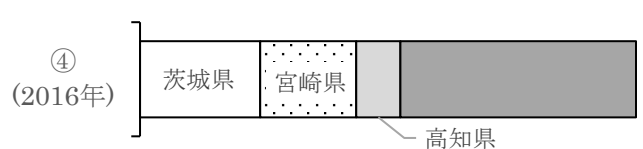
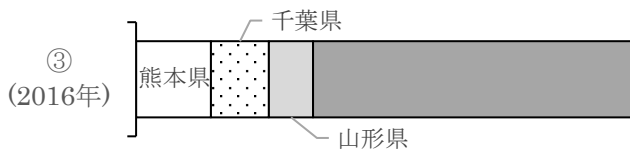
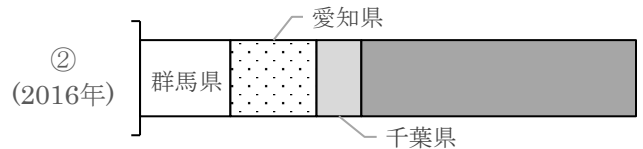
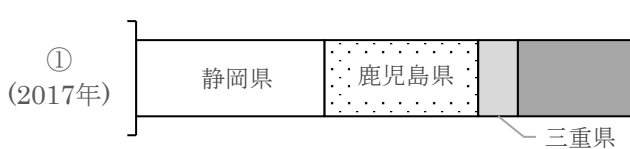
1 次の①～④のグラフは、家畜の飼育頭数の都道府県の割合を示しています。家畜の名前を下の選択肢から選び、記号で答えなさい。



ア. 乳牛 イ. 肉牛 ウ. ぶた エ. 肉用若鶏

①		②		③		④	
---	--	---	--	---	--	---	--

2 次の①～⑩のグラフは、野菜・工芸作物などの都道府県の生産別の割合を示しています。作物の名前を下の選択肢から選び、記号で答えなさい。

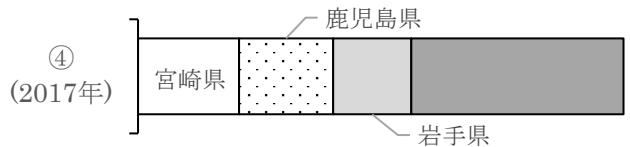
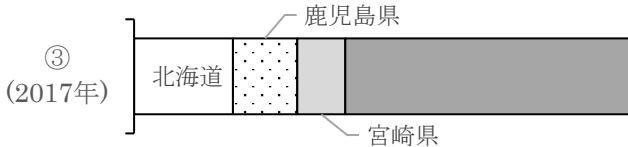
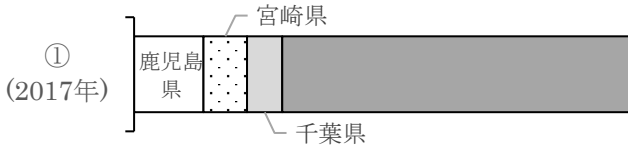


ア. キャベツ イ. レタス ウ. ピーマン エ. なす オ. 茶  
カ. いちご キ. すいか ク. さとうきび ケ. てんさい コ. たまねぎ

①		②		③		④		⑤		⑥		⑦		⑧		⑨		⑩	
---	--	---	--	---	--	---	--	---	--	---	--	---	--	---	--	---	--	---	--

名前 ( )

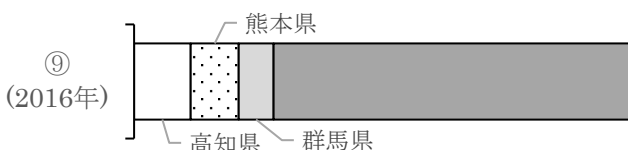
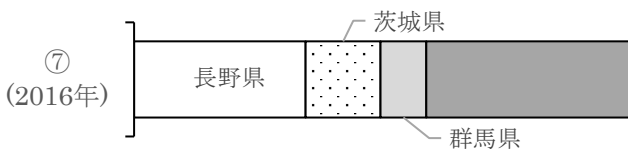
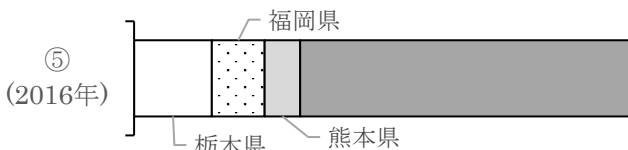
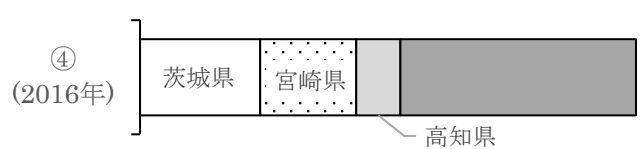
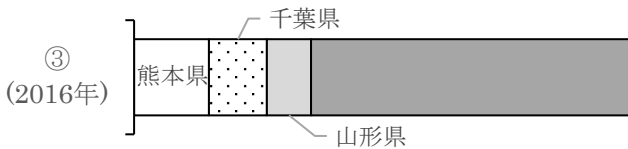
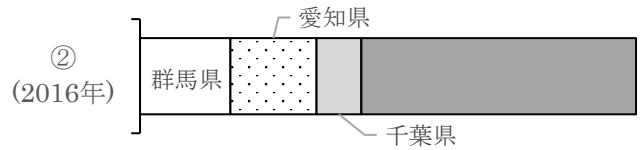
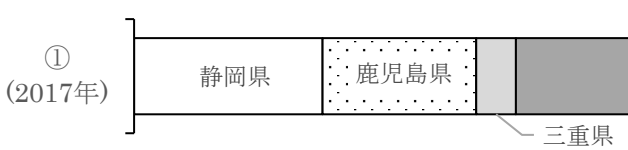
1 次の①～④のグラフは、家畜の飼育頭数の都道府県の割合を示しています。家畜の名前を下の選択肢から選び、記号で答えなさい。



ア. 乳牛 イ. 肉牛 ウ. ぶた エ. 肉用若鶏

①	ウ	②	ア	③	イ	④	エ
---	---	---	---	---	---	---	---

2 次の①～⑩のグラフは、野菜・工芸作物などの都道府県の生産別の割合を示しています。作物の名前を下の選択肢から選び、記号で答えなさい。



ア. キャベツ イ. レタス ウ. ピーマン エ. なす オ. 茶  
カ. いちご キ. すいか ク. さとうきび ケ. てんさい コ. たまねぎ

①	オ	②	ア	③	キ	④	ウ	⑤	カ	⑥	コ	⑦	イ	⑧	ク	⑨	エ	⑩	ケ
---	---	---	---	---	---	---	---	---	---	---	---	---	---	---	---	---	---	---	---