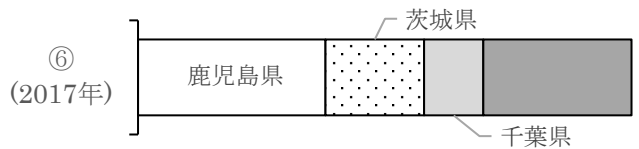
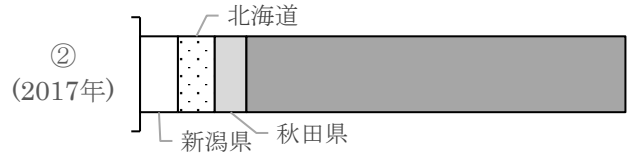
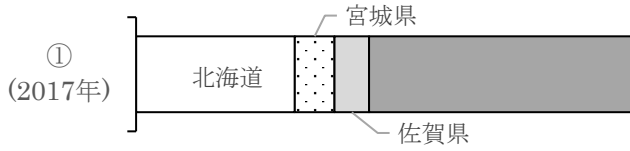


# 国内農作物の生産地①

名前 ( )

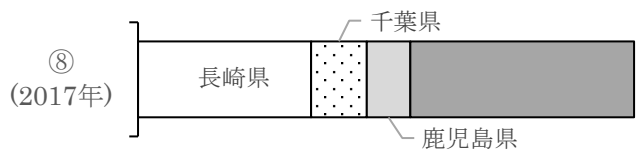
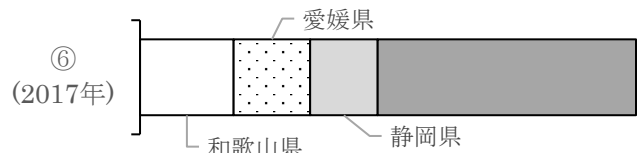
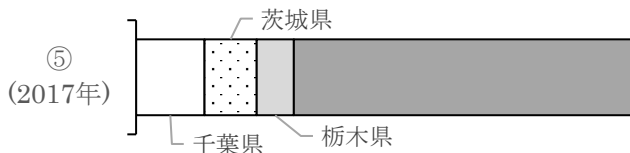
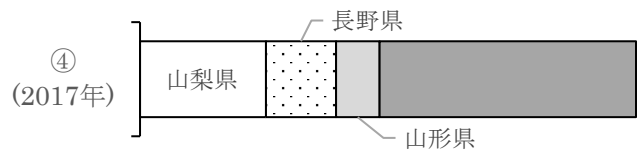
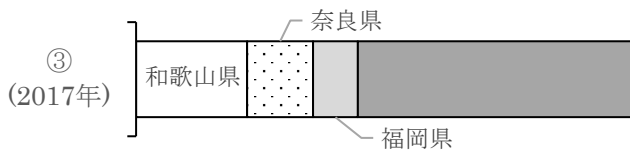
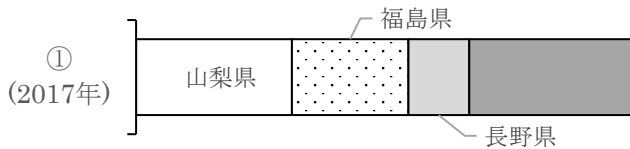
1 次の①～⑥のグラフは、穀物・いも類の都道府県の生産別の割合を示しています。作物の名前を下の選択肢から選び、記号で答えなさい。



ア. 米 イ. 小麦 ウ. 大豆 エ. とうもろこし オ. じゃがいも カ. さつまいも キ. らっかせい

①		②		③		④		⑤		⑥	
---	--	---	--	---	--	---	--	---	--	---	--

2 次の①～⑧のグラフは、くだもの都道府県の生産別の割合を示しています。作物の名前を下の選択肢から選び、記号で答えなさい。



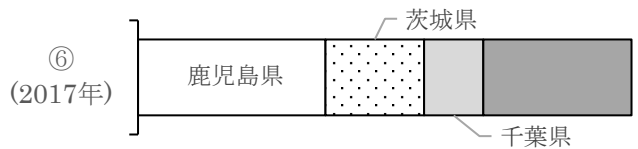
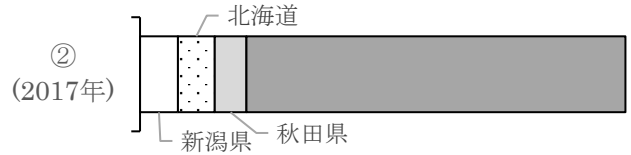
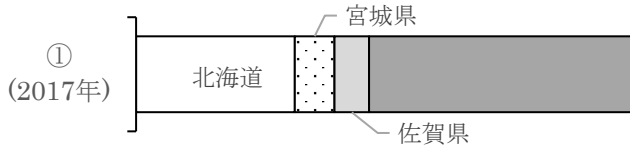
ア. りんご イ. みかん ウ. ぶどう エ. もも オ. びわ カ. 日本なし キ. かき ク. おうとう

①		②		③		④		⑤		⑥		⑦		⑧	
---	--	---	--	---	--	---	--	---	--	---	--	---	--	---	--

## 国内農作物の生産地① 解答

名前 ( )

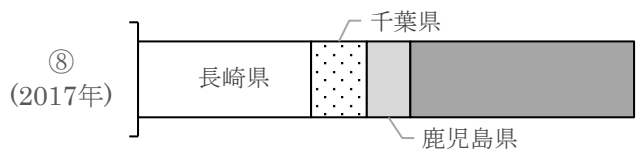
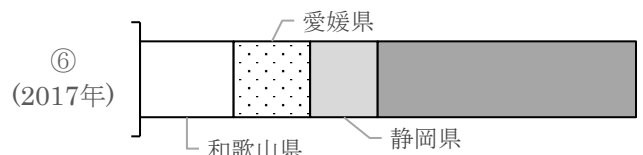
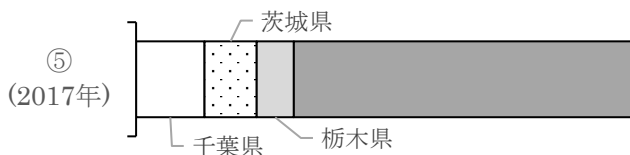
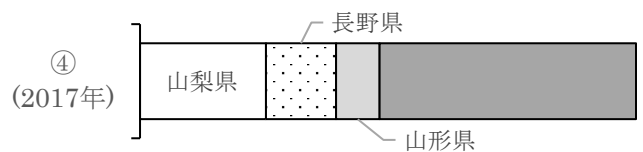
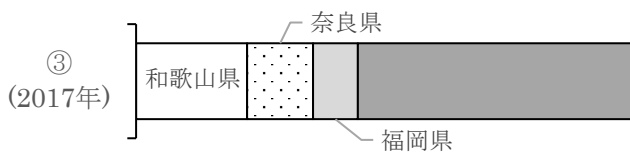
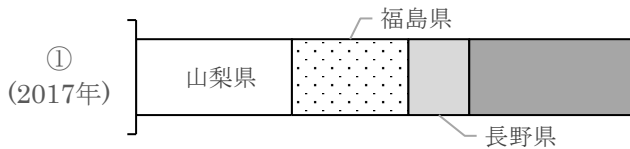
1 次の①～⑥のグラフは、穀物・いも類の都道府県の生産別の割合を示しています。作物の名前を下の選択肢から選び、記号で答えなさい。



ア. 米 イ. 小麦 ウ. 大豆 エ. とうもろこし オ. じゃがいも カ. さつまいも キ. らっかせい

①	ウ	②	ア	③	オ	④	キ	⑤	イ	⑥	カ
---	---	---	---	---	---	---	---	---	---	---	---

2 次の①～⑧のグラフは、くだもの都道府県の生産別の割合を示しています。作物の名前を下の選択肢から選び、記号で答えなさい。



ア. りんご イ. みかん ウ. ぶどう エ. もも オ. びわ カ. 日本なし キ. かき ク. おうとう

①	エ	②	ア	③	キ	④	ウ	⑤	カ	⑥	イ	⑦	ク	⑧	オ
---	---	---	---	---	---	---	---	---	---	---	---	---	---	---	---