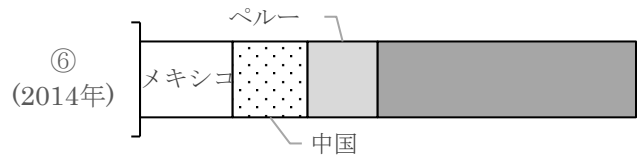
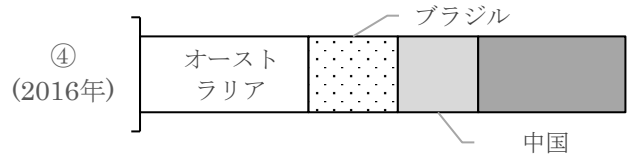
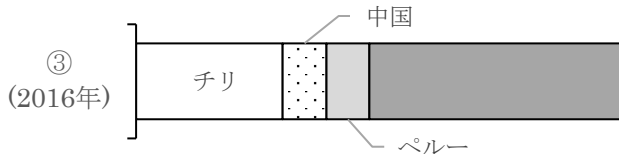
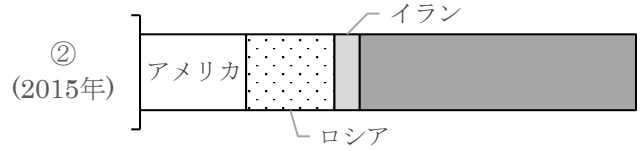
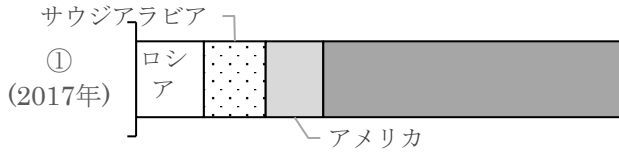


名前 ()

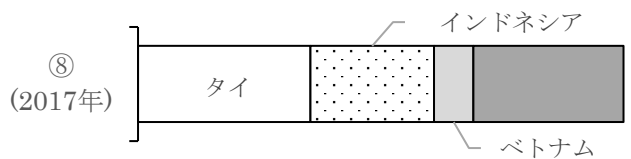
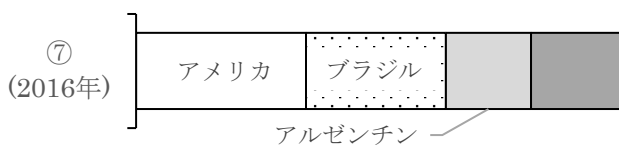
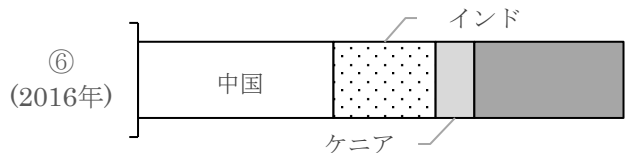
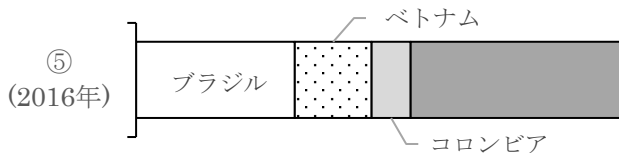
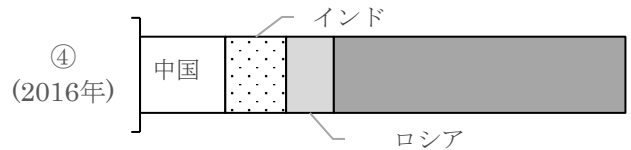
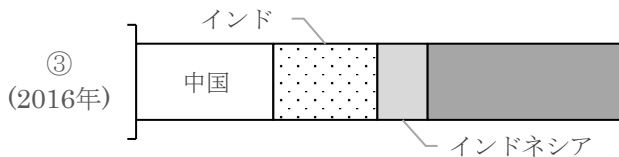
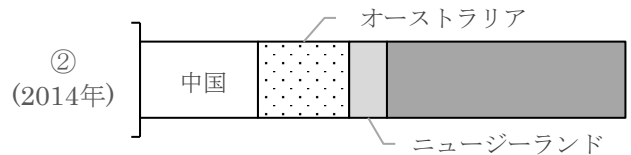
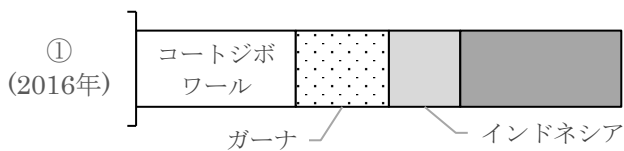
1 次のグラフは、鉱産資源の産出量の国別割合を表したものである。①～⑥にあてはまる品目を次の選択肢から選び、記号で答えなさい。



ア. 石油 イ. 石炭 ウ. 鉄鉱石 エ. 天然ガス オ. 銅鉱 カ. 銀鉱

①		②		③		④		⑤		⑥	
---	--	---	--	---	--	---	--	---	--	---	--

2 次のグラフは、農産物の産出量の国別割合を表したものである。①～⑧にあてはまる品目を次の選択肢から選び、記号で答えなさい。



ア. 米 イ. 小麦 ウ. 大豆 エ. 茶 オ. コーヒー カ. カカオ キ. 羊毛 ク. 天然ゴム

①		②		③		④		⑤		⑥		⑦		⑧	
---	--	---	--	---	--	---	--	---	--	---	--	---	--	---	--

<世界の主要資源産出量・農産物生産量 解答>

① ①ア ②エ ③オ ④ウ ⑤イ ⑥カ

② ①カ ②キ ③ア ④イ ⑤オ ⑥エ ⑦ウ ⑧ク