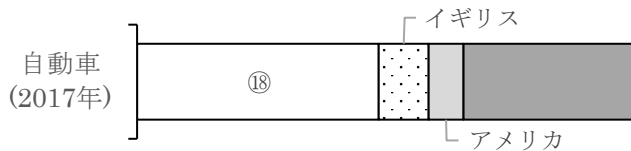
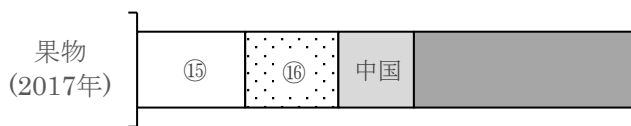
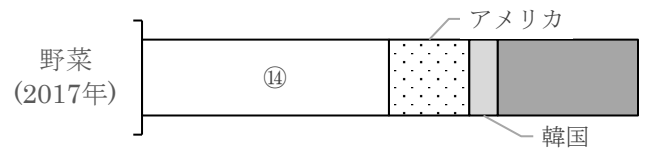
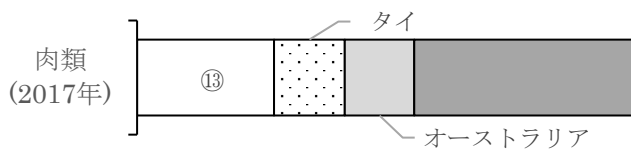
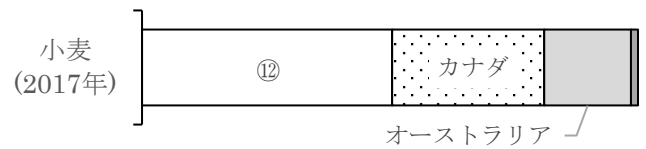
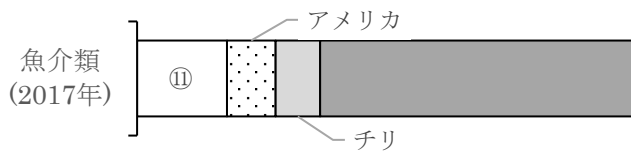
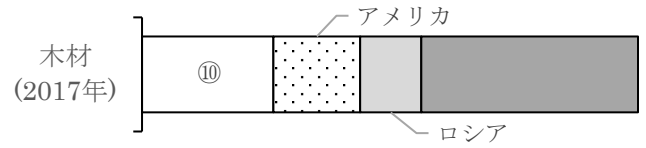
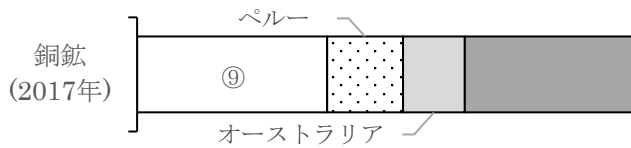
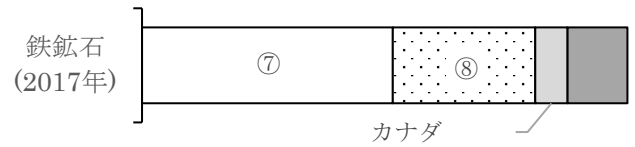
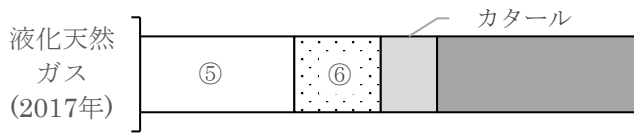
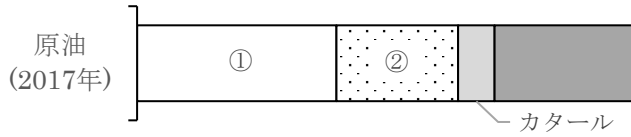


## 主要輸入品目の輸入先②

名前 ( )

1 次のグラフは、主要輸入品目の輸入相手先の割合を表したものである。グラフ内の①～⑳にあてはまる国名を下の選択肢から選び、記号で答えなさい。ただし、同じ記号を繰り返し使ってよい。



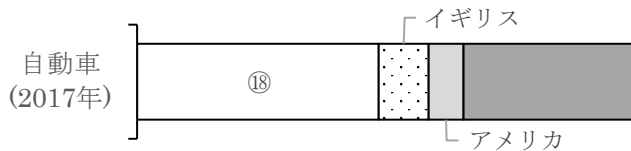
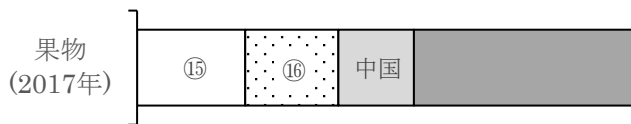
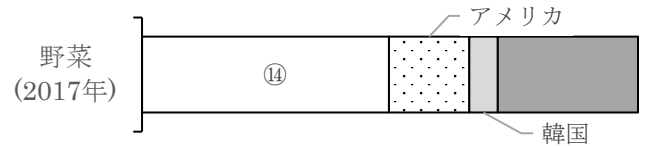
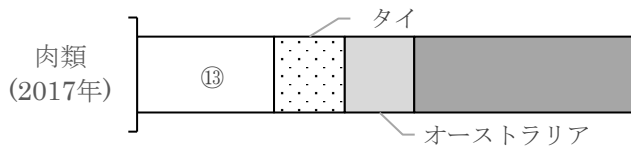
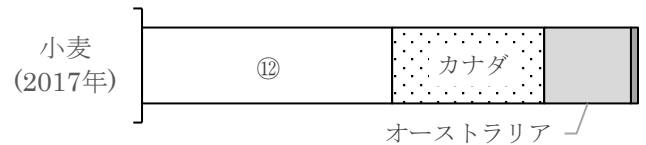
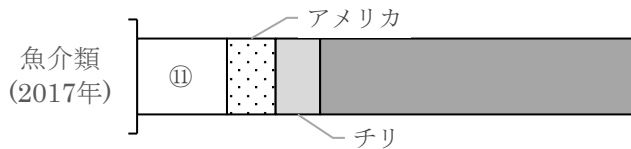
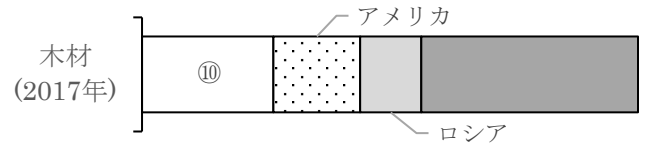
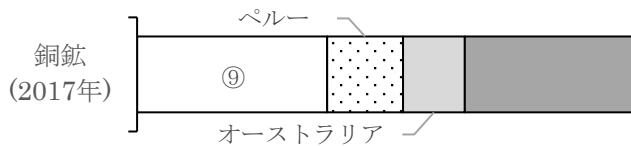
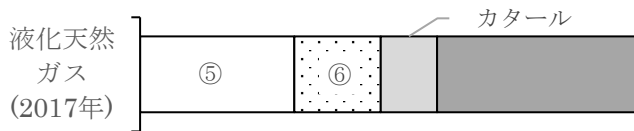
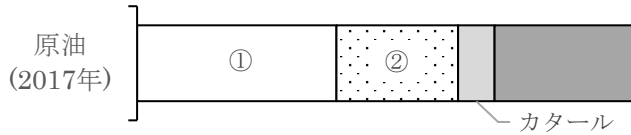
- ア. フランス イ. ドイツ ウ. 中国 エ. 韓国 オ. フィリピン  
 カ. ベトナム キ. マレーシア ク. インドネシア ケ. インド コ. サウジアラビア  
 サ. アラブ首長国連邦 シ. アメリカ ス. カナダ セ. ブラジル ソ. チリ  
 タ. オーストラリア チ. ニュージーランド ツ. 南アフリカ共和国

①		②		③		④		⑤		⑥		⑦	
⑧		⑨		⑩		⑪		⑫		⑬		⑭	
⑮		⑯		⑰		⑱		⑲		⑳			

## 主要輸入品目の輸入先②

名前 ( )

1 次のグラフは、主要輸入品目の輸入相手先の割合を表したものである。グラフ内の①～⑳にあてはまる国名を下の選択肢から選び、記号で答えなさい。ただし、同じ記号を繰り返し使ってよい。



- ア. フランス イ. ドイツ ウ. 中国 エ. 韓国 オ. フィリピン  
 カ. ベトナム キ. マレーシア ク. インドネシア ケ. インド コ. サウジアラビア  
 サ. アラブ首長国連邦 シ. アメリカ ス. カナダ セ. ブラジル ソ. チリ  
 タ. オーストラリア チ. ニュージーランド ツ. 南アフリカ共和国

①	コ	②	サ	③	タ	④	ク	⑤	タ	⑥	キ	⑦	タ
⑧	セ	⑨	ソ	⑩	ス	⑪	ウ	⑫	シ	⑬	シ	⑭	ウ
⑮	シ	⑯	オ	⑰	シ	⑱	イ	⑲	ウ	⑳	カ		