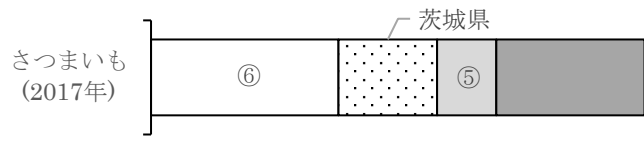
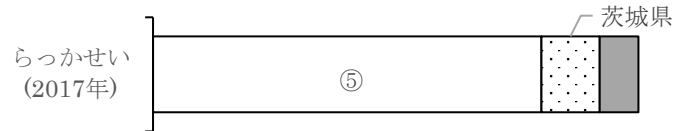
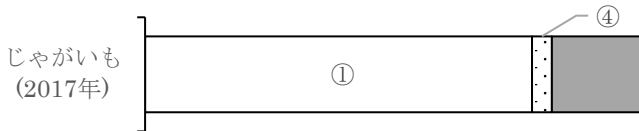
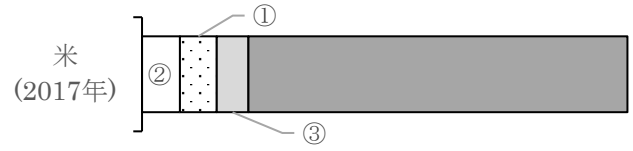
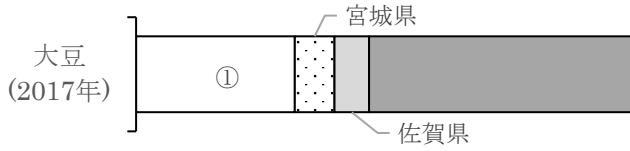


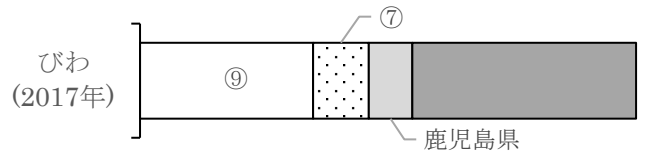
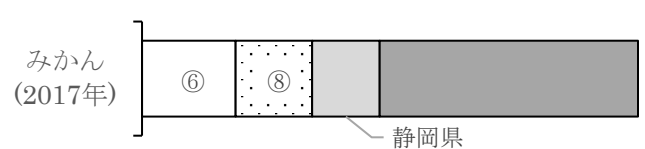
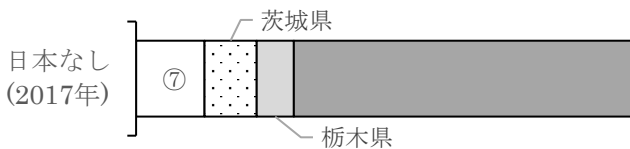
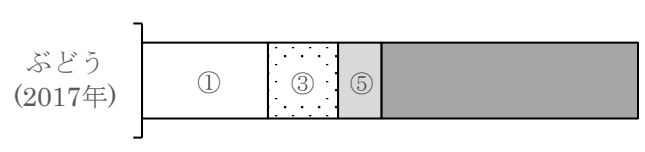
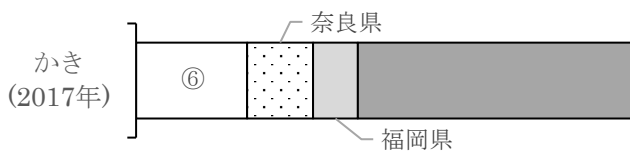
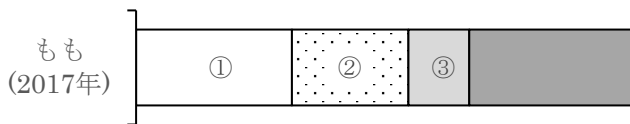
名前 ()

1 次のグラフは、穀物・いも類などの都道府県の生産別の割合を示しています。グラフ中の①～⑥にあてはまる都道府県名を答えなさい。



| | | | | | |
|---|--|---|--|---|--|
| ① | | ② | | ③ | |
| ④ | | ⑤ | | ⑥ | |

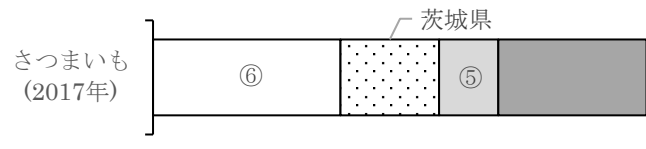
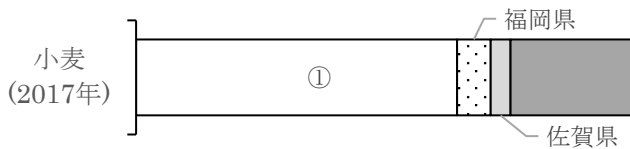
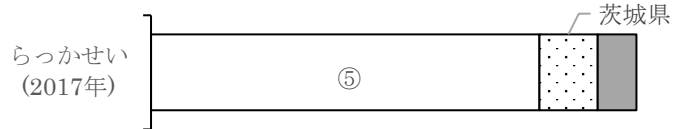
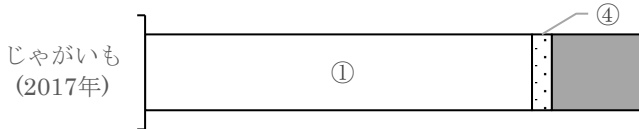
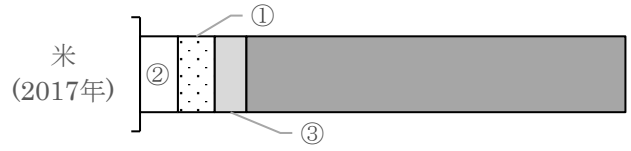
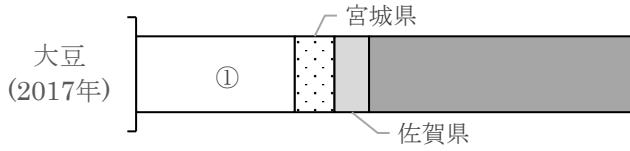
2 次のグラフは、くだもの都道府県の生産別の割合を示しています。グラフ中の①～⑨にあてはまる都道府県名を答えなさい。



| | | | | | |
|---|--|---|--|---|--|
| ① | | ② | | ③ | |
| ④ | | ⑤ | | ⑥ | |
| ⑦ | | ⑧ | | ⑨ | |

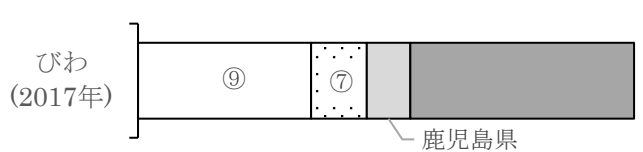
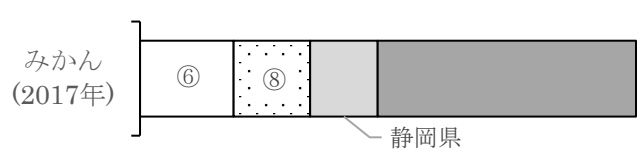
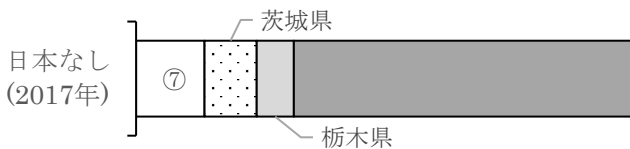
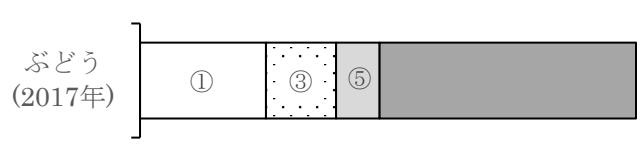
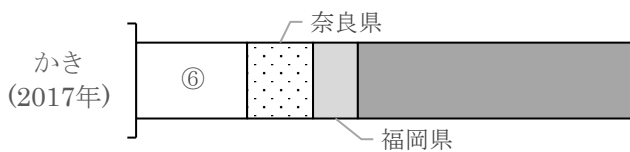
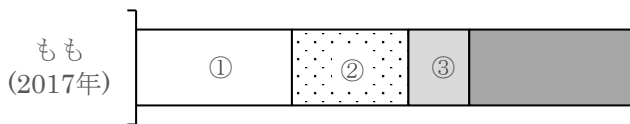
名前 ()

1 次のグラフは、穀物・いも類などの都道府県の生産別の割合を示しています。グラフ中の①～⑥にあてはまる都道府県名を答えなさい。



| | | | | | |
|---|-----|---|-----|---|------|
| ① | 北海道 | ② | 新潟県 | ③ | 秋田県 |
| ④ | 長崎県 | ⑤ | 千葉県 | ⑥ | 鹿児島県 |

2 次のグラフは、くだもの都道府県の生産別の割合を示しています。グラフ中の①～⑨にあてはまる都道府県名を答えなさい。



| | | | | | |
|---|-----|---|-----|---|------|
| ① | 山梨県 | ② | 福島県 | ③ | 長野県 |
| ④ | 青森県 | ⑤ | 山形県 | ⑥ | 和歌山県 |
| ⑦ | 千葉県 | ⑧ | 愛媛県 | ⑨ | 長崎県 |