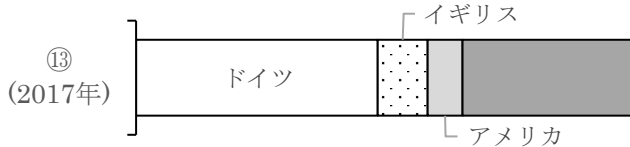
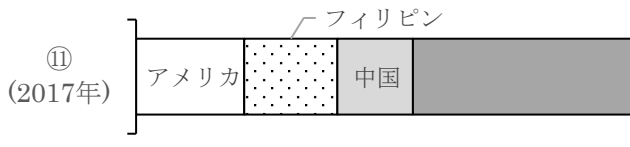
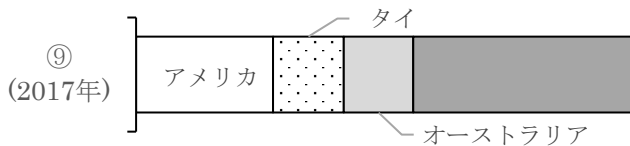
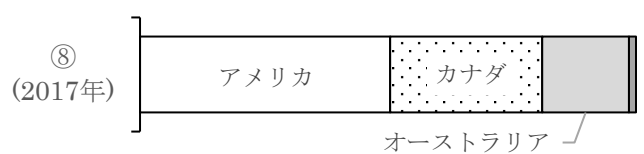
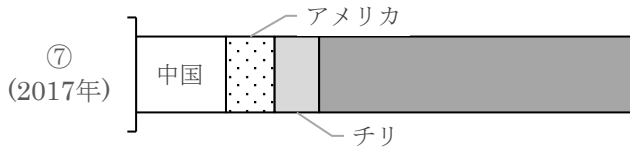
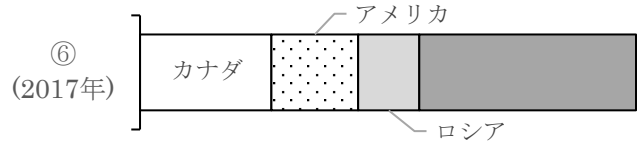
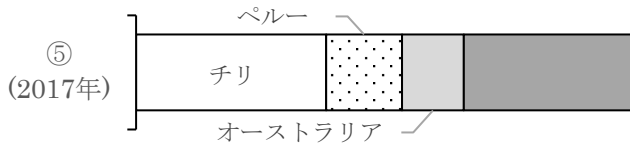
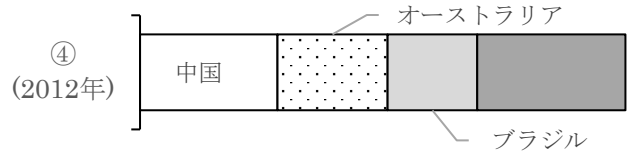
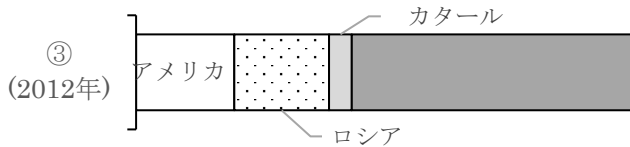
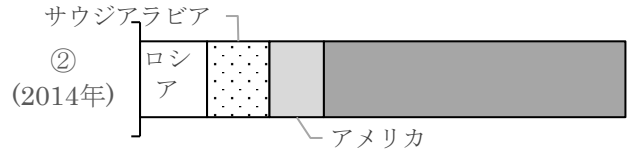


世界の主要農産物生産量・資源産出量①

名前 ()

1 次のグラフは、世界の農産物の生産量、資源の産出量の国別割合を表したものである。①～⑭にあてはまる輸入品目を次の選択肢から選び、記号で答えなさい。

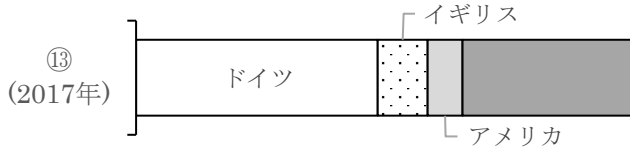
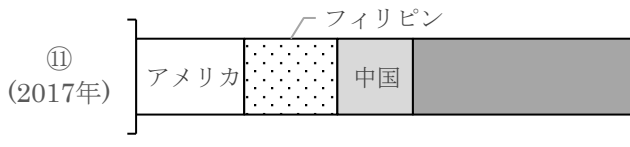
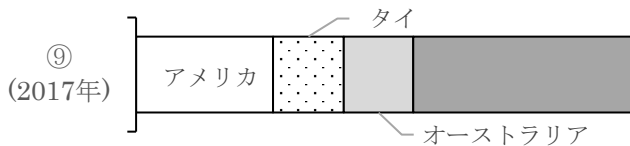
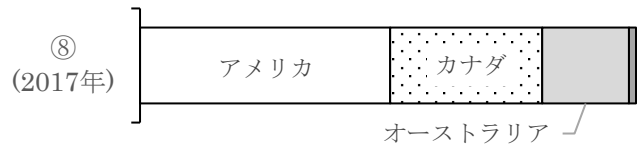
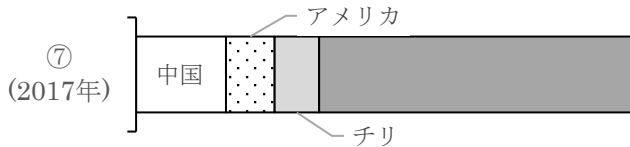
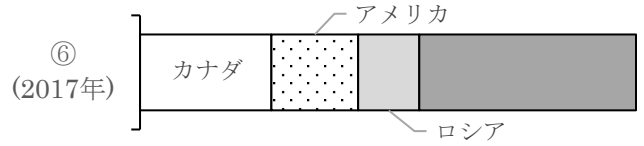
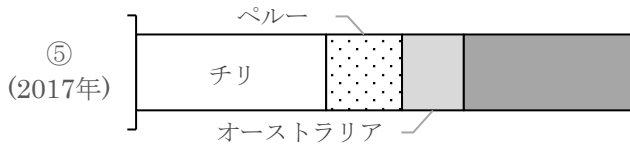
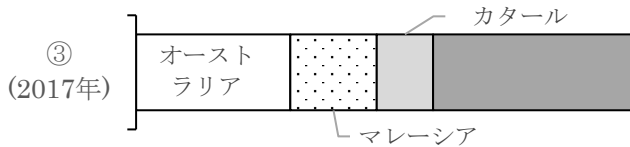
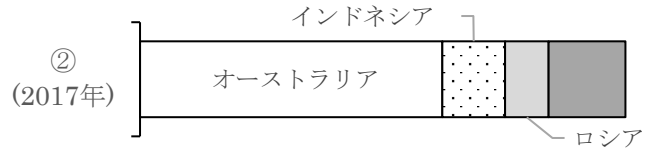
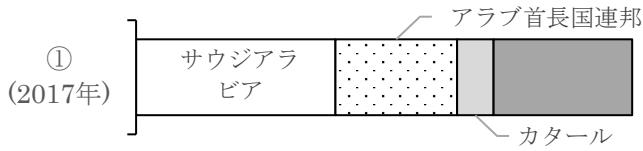


石炭 石油 天然ガス 鉄鉱石

①	②	③	④	⑤	⑥	⑦
⑧	⑨	⑩	⑪	⑫	⑬	⑭

名前 ()

1 次のグラフは、世界の農産物の生産量、資源の産出量の国別割合を表したものである。①～⑭にあてはまる輸入品目を次の選択肢から選び、記号で答えなさい。



ア. 肉類 イ. 野菜 ウ. くだもの エ. 魚介類 オ. 大豆 カ. 小麦 キ. 衣類
ク. 自動車 ケ. 鉄鉱石 コ. 石炭 サ. 石油 シ. 天然ガス ス. 木材 セ. 銅鉱

①	サ	②	コ	③	シ	④	ケ	⑤	セ	⑥	ス	⑦	エ
⑧	カ	⑨	ア	⑩	イ	⑪	ウ	⑫	オ	⑬	ク	⑭	キ