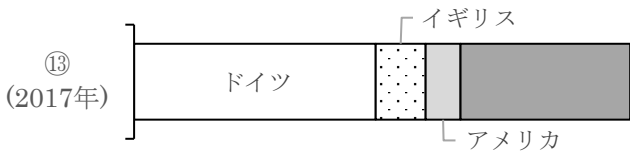
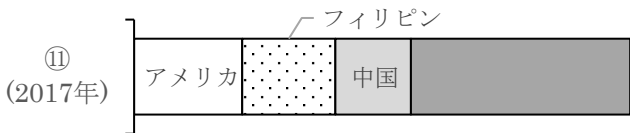
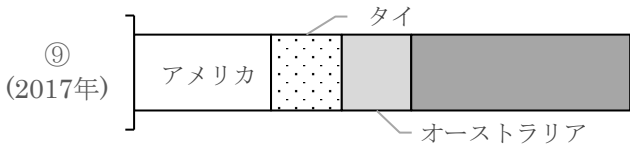
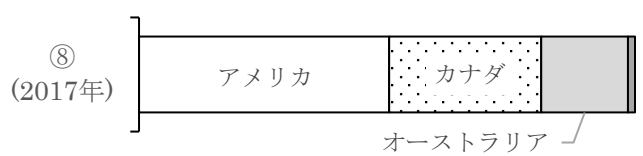
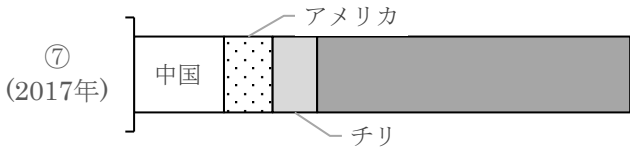
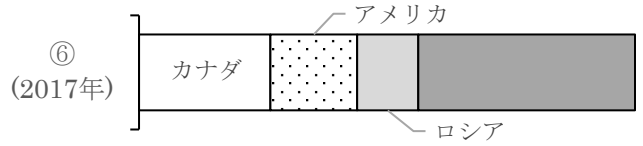
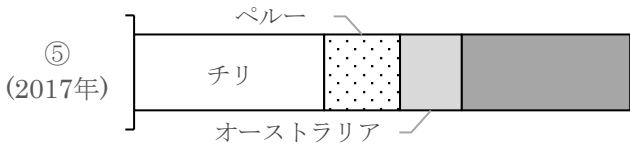
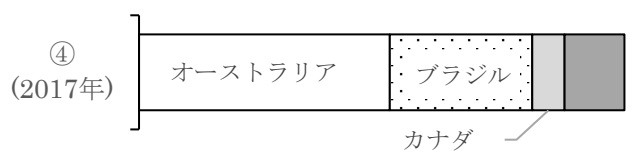
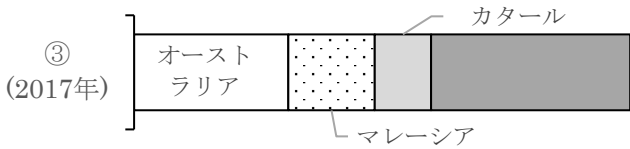
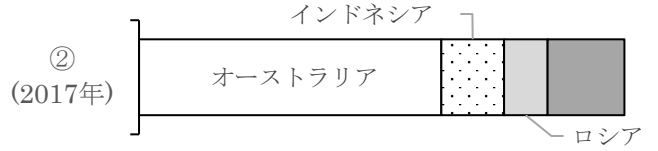
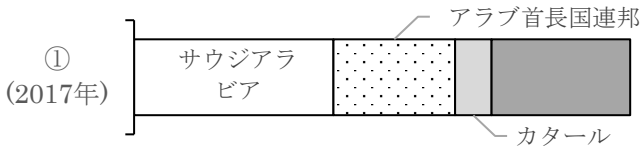


# 世界の輸入品目の輸入先①

名前 ( )

1 次のグラフは、主要輸入品目の輸入相手先の割合を表したものである。グラフ内の①～⑭にあてはまる品目を下の選択肢から選び、記号で答えなさい。



ア. 肉類 イ. 野菜 ウ. くだもの エ. 魚介類 オ. 大豆 カ. 小麦 キ. 衣類  
ク. 自動車 ケ. 鉄鉱石 コ. 石炭 サ. 石油 シ. 天然ガス ス. 木材 セ. 銅鉱

①	②	③	④	⑤	⑥	⑦
⑧	⑨	⑩	⑪	⑫	⑬	⑭

<解答>

- ① サ ② コ ③ シ ④ ケ ⑤ セ ⑥ ス ⑦ エ  
⑧ カ ⑨ ア ⑩ イ ⑪ ウ ⑫ オ ⑬ ク ⑭ キ