





























問 下の1~25の地図記号が示しているものを、それぞれ答えなさい。

★建築物・目標物

- 1 
- 2 
- 3 
- 4 
- 5 
- 6 
- 7 
- 8 
- 9 
- 10 
- 11 
- 12 
- 13 
- 14 
- 15 
- 16 
- 17 
- 18 
- 19 
- 20 
- 21 
- 22 
- 23 
- 24 
- 25 

1		2		3	
4		5		6	
7		8		9	
10		11		12	
13		14		15	
16		17		18	
19		20		21	
22		23		24	
25					

	入試に出る地図記号 標準編	名前	<解答>	点数	/
--	----------------------	----	------	----	---

1	自然災害伝承碑	2	図書館	3	寺院
4	電子基準点	5	保健所	6	病院
7	小中学校	8	警察署	9	町村役場
10	交番	11	郵便局	12	裁判所
13	神社	14	老人ホーム	15	消防署
16	市役所	17	博物館（美術館）	18	税務署
19	高等学校	20	風車	21	針葉樹林
22	広葉樹林	23	果樹園	24	畑
25	田				